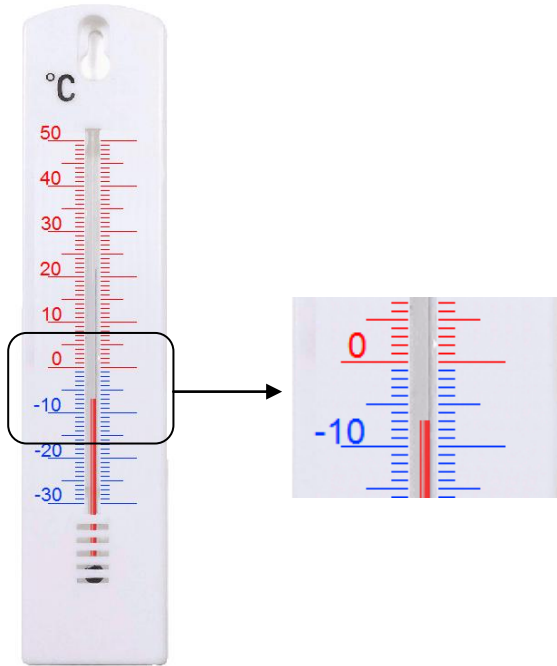


Exercice : Lire les graduations d'un thermomètre

Pour chacun des thermomètres suivants, indique le nombre de degré entre chaque graduation et la température indiquée par le thermomètre.

1.



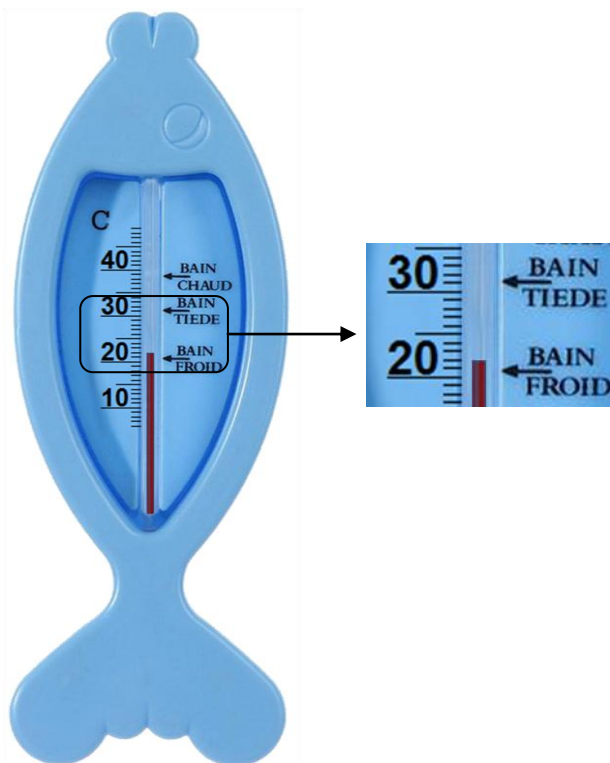
a. A combien de degrés Celsius correspond une graduation ?

..... °C

b. Quelle est alors la température indiquée par le thermomètre ?

..... °C

2.



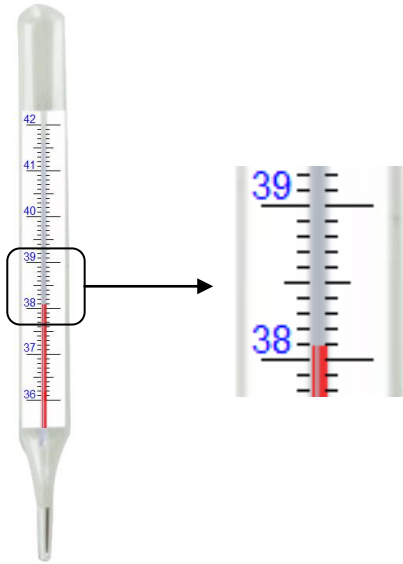
a. A combien de degrés Celsius correspond une graduation ?

..... °C

b. Quelle est alors la température indiquée par le thermomètre ?

..... °C

3.



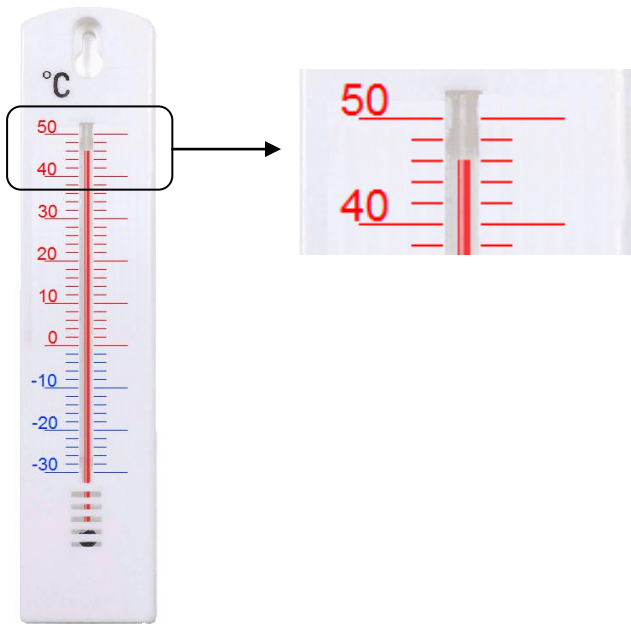
a. A combien de degrés Celsius correspond une graduation ?

..... °C

b. Quelle est alors la température indiquée par le thermomètre ?

..... °C

4.



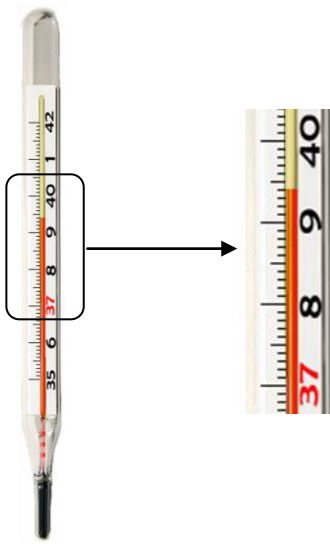
a. A combien de degrés Celsius correspond une graduation ?

..... °C

b. Quelle est alors la température indiquée par le thermomètre ?

..... °C

5.



a. A combien de degrés Celsius correspond une graduation ?

..... °C

b. Quelle est alors la température indiquée par le thermomètre ?

..... °C